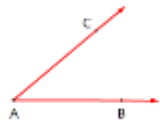
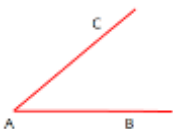









**ใบกิจกรรมที่ 1 เรื่อง จุด เส้นตรง ส่วนของเส้นตรง รังสีและมุม**  
**หน่วยที่ 4 แผนการจัดการเรียนรู้ที่ 1 จุด เส้นตรง ส่วนของเส้นตรง รังสีและมุม**  
**รายวิชาคณิตศาสตร์ 1 รหัสวิชา ค21101 ภาคเรียนที่ 1 ชั้นมัธยมศึกษาปีที่ 1**

ชื่อ.....นามสกุล..... ชั้น..... เลขที่.....

**จุดประสงค์การเรียนรู้ :** ระบุรูป สัญลักษณ์ ลักษณะของรูปเรขาคณิตพื้นฐาน ได้แก่ จุด เส้นตรง ส่วนของเส้นตรง รังสี และมุมได้

**คำชี้แจง:** ให้พิจารณา รูป สัญลักษณ์ ลักษณะ ข้อความ ที่อยู่ในช่องรายการให้สอดคล้องกับรูป สัญลักษณ์ ลักษณะ ของรูปเรขาคณิตพื้นฐานที่กำหนดให้แล้วนำมาเขียนคำตอบลงในช่องรายละเอียดให้ถูกต้อง

| รูปเรขาคณิตพื้นฐาน | รูป สัญลักษณ์ ลักษณะ | รายละเอียด | รายการ  |
|--------------------|----------------------|------------|---|
| จุด                | รูป                  |            | $\overline{AB}$<br>มีความยาวไม่จำกัด  |
|                    | สัญลักษณ์            |            | คือส่วนหนึ่งของเส้นตรง<br>ซึ่งมีจุดปลายเพียงจุดเดียว  |
|                    | ลักษณะ               |            |    |
| เส้นตรง            | รูป                  |            | บางครั้งใช้อักษรตัวพิมพ์เล็ก<br>ในภาษาอังกฤษแทนความยาว  |
|                    | สัญลักษณ์            |            | $\overline{AB}$<br>$\overline{BA}$  |
|                    | ลักษณะ               |            |    |
| ส่วนของเส้นตรง     | รูป                  |            | $\overline{AB}$ เมื่อมี A เป็นจุดปลาย<br>ขนาด เขียนแทนด้วย<br>$m(\widehat{BAC})$ หรือ $m\angle BAC$   |
|                    | สัญลักษณ์            |            | มีเพียงเส้นเดียวเท่านั้นที่ลากผ่าน<br>จุดสองจุดที่กำหนดให้  |
|                    | ลักษณะ               |            | <br>$\widehat{BAC}$ หรือ $\angle BAC$<br>$\overline{BA}$ เมื่อมี B เป็นจุดปลาย |

| รูปเรขาคณิต<br>พื้นฐาน | รูป สัญลักษณ์<br>ลักษณะ | รายละเอียด  | รายการ  |
|------------------------|-------------------------|---|---|
| รังสี                  | รูป                     |   | ความยาว เขียนแทนด้วย<br>$m(\overline{AB})$ หรือ $AB$                                  |
|                        |                         |   |    |
|                        | สัญลักษณ์               |   | คือรังสีสองเส้น<br>ที่มีจุดปลายเป็นจุดเดียวกัน  |
|                        |                         |   |    |
|                        |                         |   | $\overline{AB}$   |
|                        |                         |   |    |
| มุม                    | รูป                     |   | คือส่วนหนึ่งของเส้นตรง<br>ที่มีจุดปลายสองจุด  |
|                        |                         |   | ขนาดมีหน่วยเป็นองศา   |
|                        | สัญลักษณ์               |   |  |
|                        |                         |   | $\overline{BA}$   |
|                        |                         |   |  |
|                        |                         |   | ใช้เพื่อแสดงตำแหน่งเท่านั้น   |
| ลักษณะ                 |                         |  |   |

สรุป

จุด คือ.....

เส้นตรง คือ.....

ส่วนของเส้นตรง คือ.....

รังสี คือ.....

มุม คือ.....