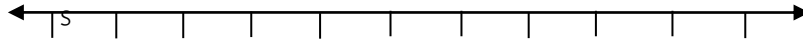


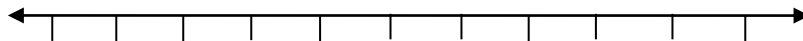


1. จงเขียนกราฟแสดงคำตอบของจำนวนที่มีเงื่อนไขต่อไปนี้

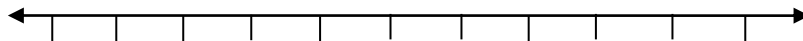
1) จำนวนทุกจำนวนที่มากกว่า -10



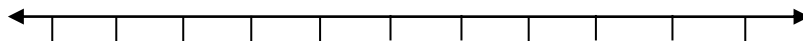
2) จำนวนทุกจำนวนที่น้อยกว่า 1



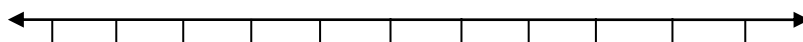
3) จำนวนทุกจำนวนที่ไม่เกิน 8




4) จำนวนทุกจำนวนที่มีค่าอย่างน้อย 5




5) จำนวนทุกจำนวนตั้งแต่ 4 ขึ้นไป




6) จำนวนทุกจำนวนที่ต่ำกว่า 11



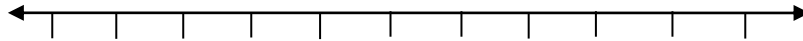
7) จำนวนทุกจำนวนตั้งแต่ -5 ถึง 3



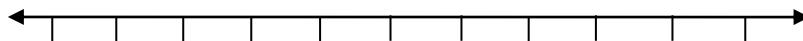
8) จำนวนทุกจำนวนตั้งแต่ 0 แต่ไม่ถึง 7



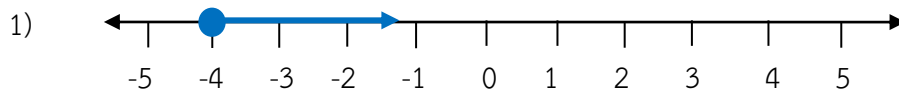
9) จำนวนทุกจำนวนที่มากกว่า -4 แต่น้อยกว่า 3



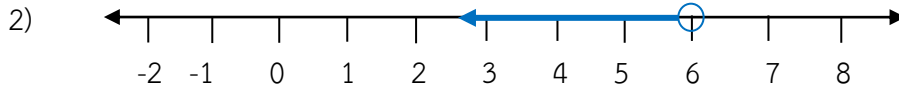
10) จำนวนทุกจำนวนยกเว้น 15



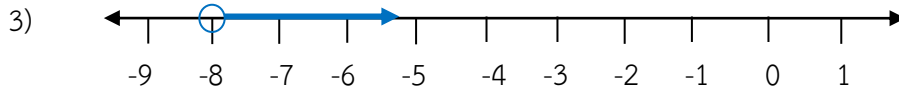
2. จากกราฟที่กำหนดให้ต่อไปนี้แสดงจำนวนใด



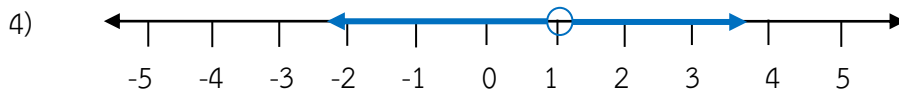
ตอบ.....



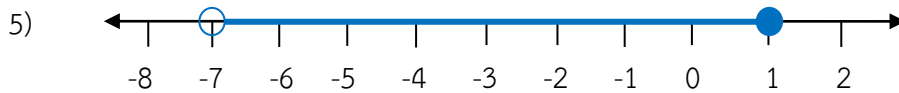
ตอบ.....



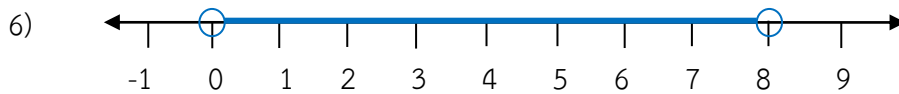
ตอบ.....



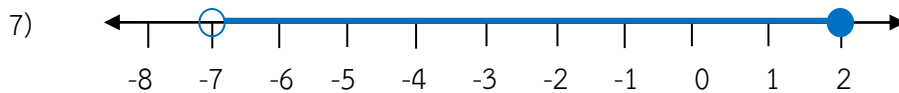
ตอบ.....



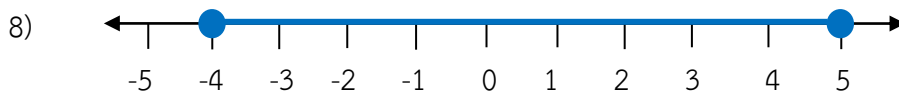
ตอบ.....



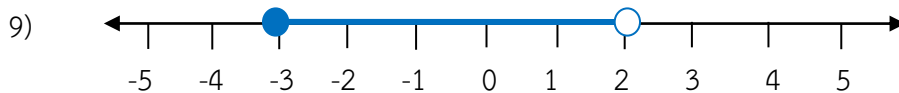
ตอบ.....



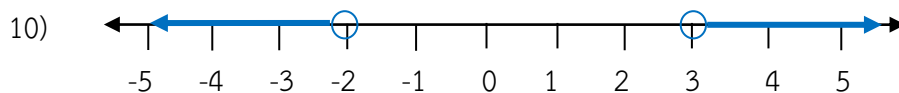
ตอบ.....



ตอบ.....



ตอบ.....



ตอบ.....