











ชื่อ..... ชั้น..... เลขที่.....

ใบกิจกรรมที่ 7

เปรียบเทียบโครงสร้างภายในรากพืชใบเลี้ยงเดี่ยวและใบเลี้ยงคู่

คำชี้แจง : จงวาดภาพและเปรียบเทียบชนิดของเซลล์หรือเนื้อเยื่อและการจัดเรียงตัวของโครงสร้างภายในตัดตาม
ขวางของพืชต่อไปนี้

	รากพืชใบเลี้ยงเดี่ยว	รากพืชใบเลี้ยงคู่
1. เอพิเดอร์มิส		
2. คอร์เทกซ์		
3. สตีล		
3.1 เพอริไซเคลิ		
3.2 วาสคิวลาร์-บันเดิล		
3.3 พิธ	