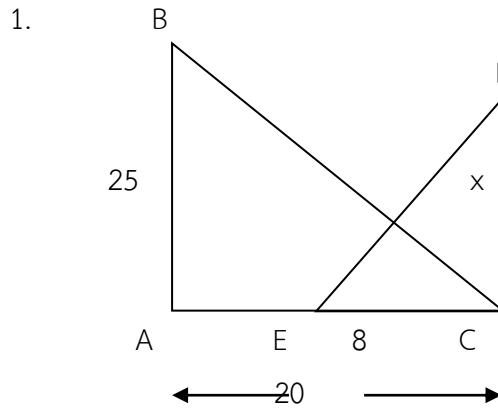
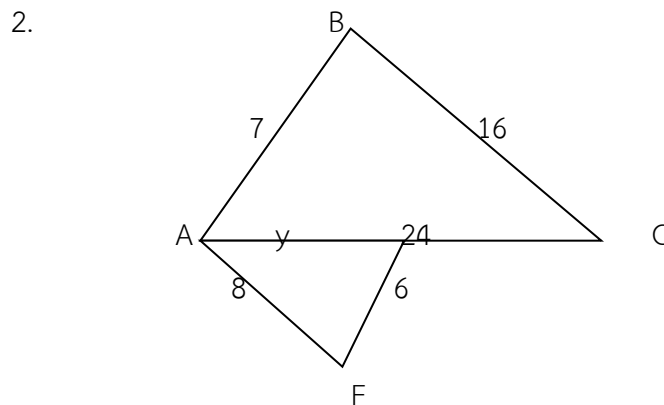




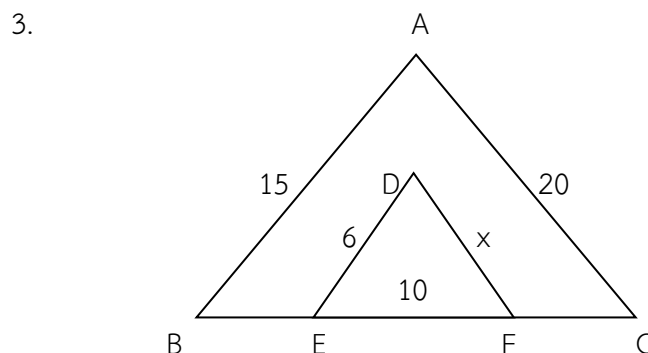
คำสั่ง ให้นักเรียนแสดงวิธีหาคำตอบที่ถูกต้อง  
จงหาค่าของตัวแปรจากรูป



กำหนดให้  $\triangle ABC \sim \triangle CDE$



กำหนด  $\angle ABC = \angle AFE$  ,  $\angle BAC = \angle AEF$  และ  $\triangle ABC \sim \triangle EFA$



กำหนดให้  $\triangle ABC \sim \triangle DEF$

ดับ 1 (ปรับปรุง)