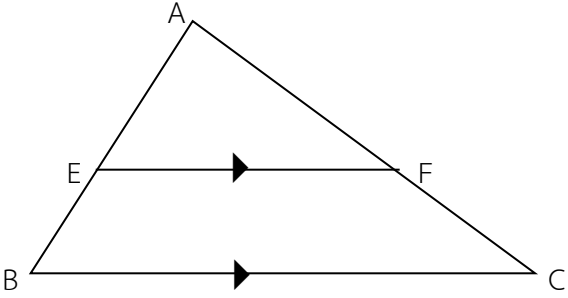




คำสั่ง ให้นักเรียนแสดงวิธีหาคำตอบที่ถูกต้อง

1. จากรูป  $EF \parallel BC$  และ  $AF : EF = 3 : 4$  ถ้า  $BC = 24$  เซนติเมตร  
 $AC$  ยาวกี่เซนติเมตร



.....

.....

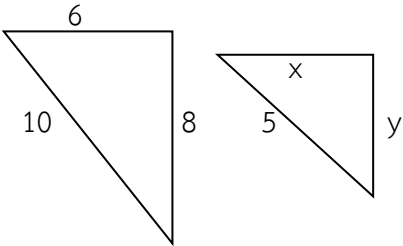
.....

.....

.....

.....

2. จงหาค่าของตัวแปรจากรูปที่กำหนดให้ต่อไปนี้
- 2.1



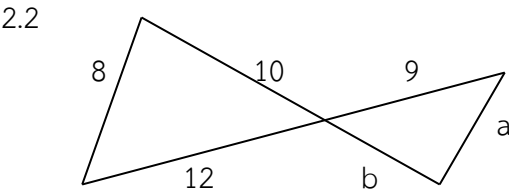
.....

.....

.....

.....

.....



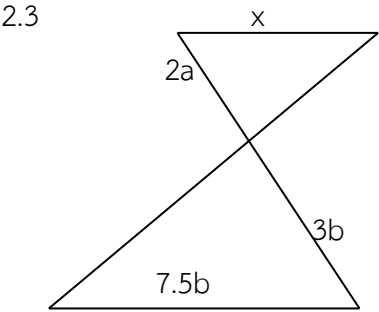
.....

.....

.....

.....

.....



.....

.....

.....

.....

.....